

Activité numérique




Je trouve et exploite des informations sur le site d'une villa gallo-romaine

- Connecte-toi sur le site <http://www.villa.culture.fr>
Clique ensuite sur « Menu » puis sur « Restitution 3D de Loupian ».

- 1 En cliquant sur les vignettes en bas de l'écran, fais apparaître l'évolution de la villa.
Pendant combien de siècles la villa de Loupian s'est-elle développée ?

.....

- 2 Clique sur la vignette 2 et complète le tableau ci-dessous en y indiquant le nom des deux parties de la villa de Loupian qui manquent. (Clique sur les « + » et rappelle-toi que « partie » en latin se dit « pars »).

Partie destinée au logement du maître	<i>Pars urbana</i> représentée sur le plan par : 
Partie destinée au logement des ouvriers représentée sur le plan par : 
Partie destinée à la transformation des récoltes représentée sur le plan par : 

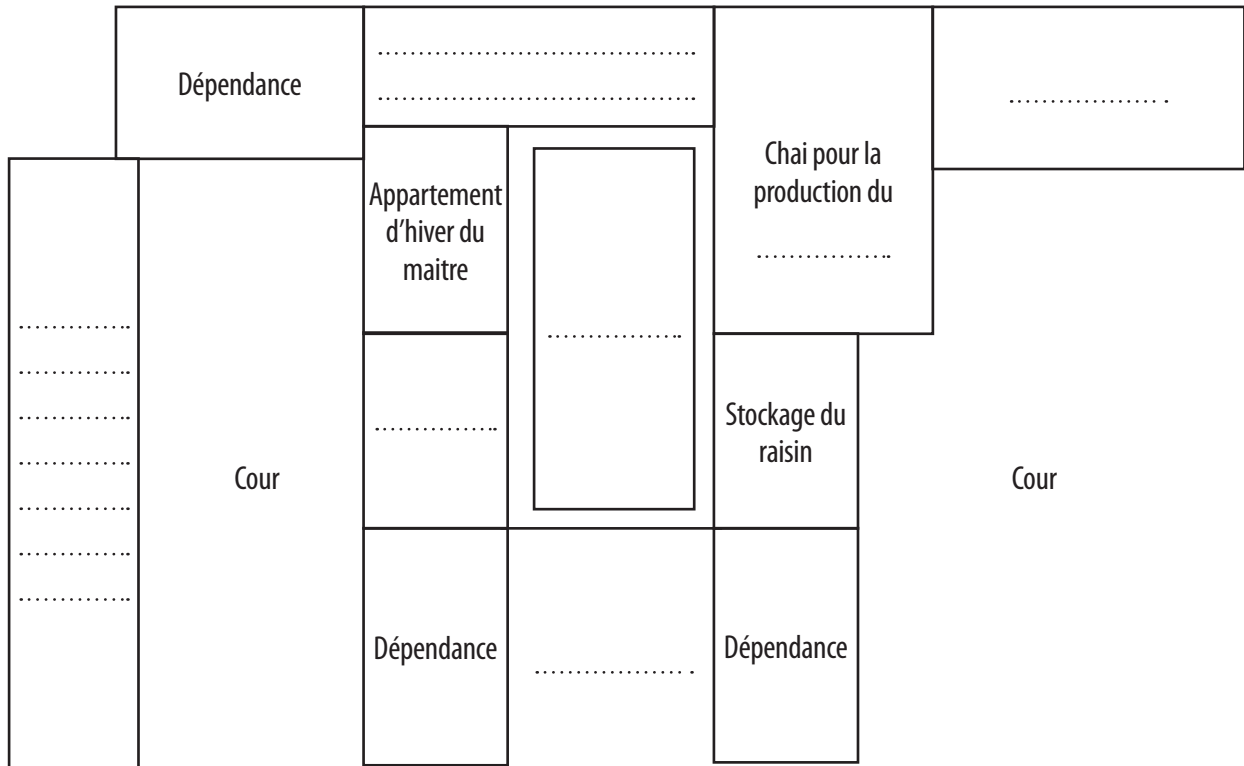
- 3 Cite la production agricole dans laquelle était spécialisée la villa de Loupian.

.....

- 4 Toujours en cliquant sur les « + », trouve des informations qui prouvent que le maître de la villa était un homme riche. Colorie ensuite en rouge sur le plan ci-dessous la partie réservée au logement du maître.

.....

5 Complète le plan ci-dessous de la villa à la fin du 1^{er} siècle ap. J.-C.



Astuce
 Tu peux aussi compléter le plan de la villa en ligne !
 Pour cela, clique en haut à gauche sur « Menu »
 puis sur « 4. La villa expliquée aux enfants » puis
 sur « 2. Présentation d'un domaine agricole ».

6 Fais le bilan en expliquant en deux lignes ce qu'est une villa gallo-romaine (pour t'aider ou pour vérifier ta réponse, tu pourras cliquer en haut à gauche sur « Menu » puis sur « Qu'est-ce qu'une villa ? »).

.....

.....

.....

.....