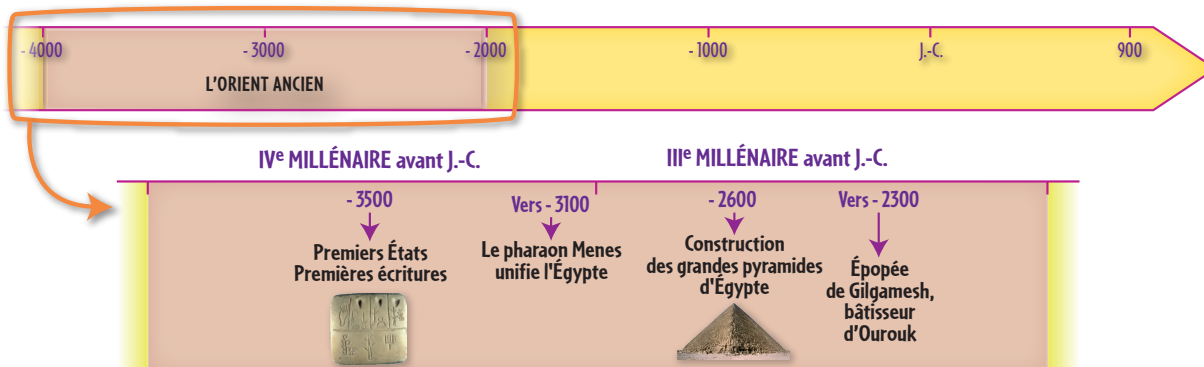


### L'Orient ancien

#### Mésopotamie et Égypte aux IV<sup>e</sup> et III<sup>e</sup> millénaires avant J.-C.

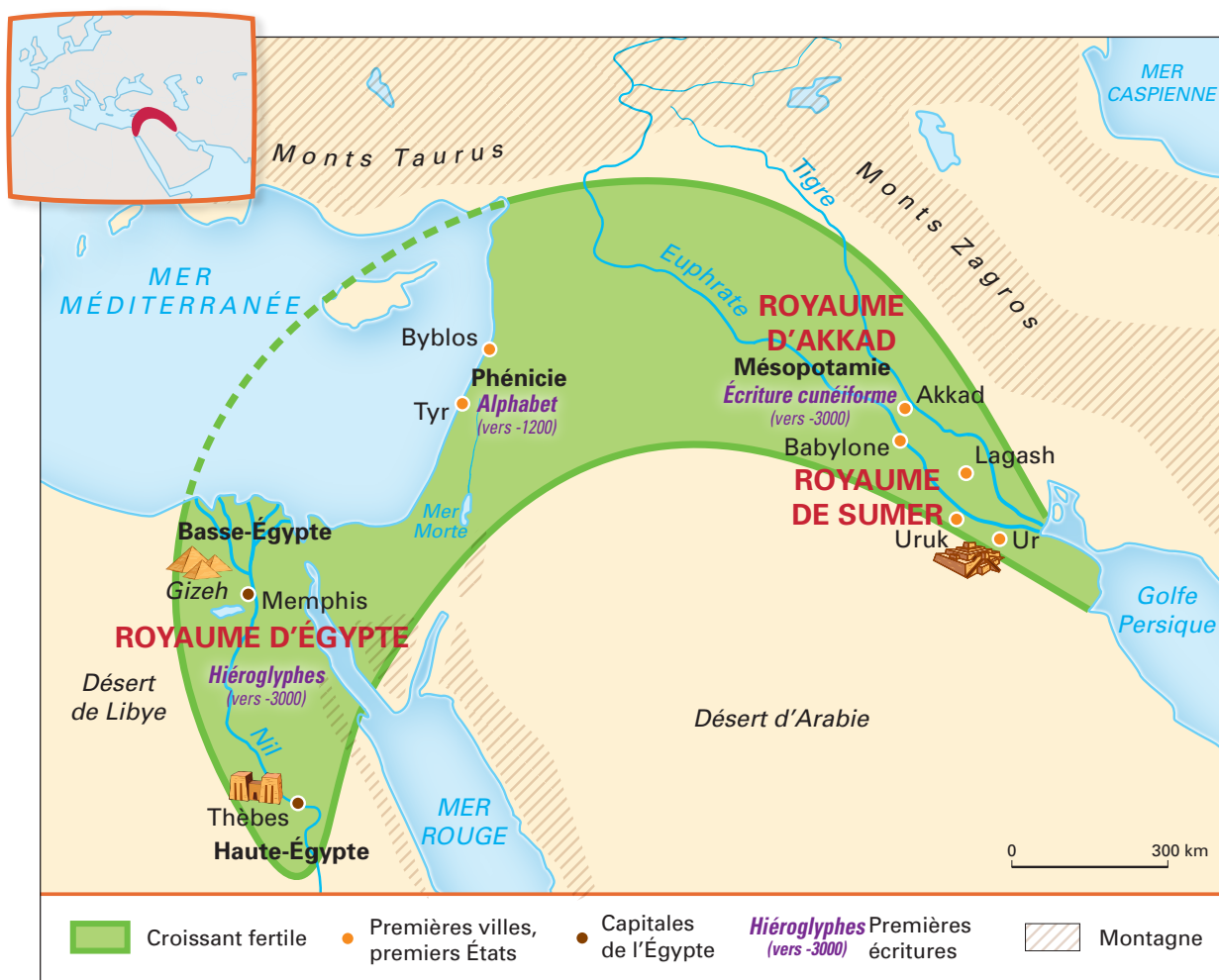
#### Je retiens:

Une période: Le troisième millénaire avant J.-C.



Les grandes dates de l'Orient ancien

#### Un territoire: L'Orient ancien



Premières villes, premiers états, premières écritures



### Des événements :

- La naissance des **premières écritures**

1

2

3

4

1 Hiéroglyphe

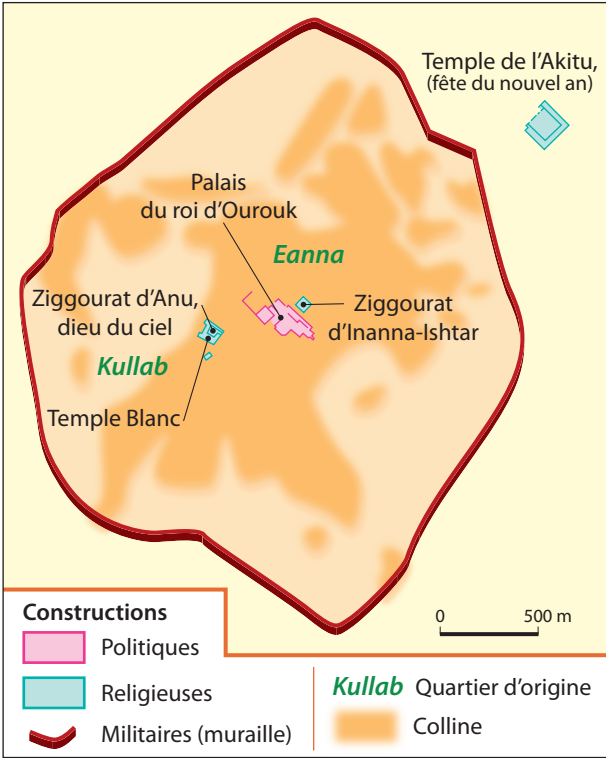
2 Pictogramme

3 Écriture cunéiforme

4 Alphabet

PICTOGRAMMES	ALPHABET		
	Phénicien	Grec	Latin
	Aleph (bœuf)	Α α	A
	Belt (maison)	Β β	B
	Mem (eau)	Μ μ	M

- La naissance des **premiers États**, par exemple les cités-États de Mésopotamie



La cité-État d'Ourouk

### Je sais :

- Situer** sur une carte la Mésopotamie, l'Égypte, la cité-État d'Ourouk.
- Décrire** un monument de Mésopotamie ou d'Égypte.
- Expliquer** le rôle de l'écriture.